

گاما

گنجینه آموزش مدارس ایران

www.gama.ir

بسمه تعالی

فروردین ماه



تا شماره	از شماره	بودجه بندی	مواد امتحانی
۵	۱	انس با قرآن کریم ۱۳ و ۱۴	آموزش قرآن
۱۰	۶	درس ۱۸ و ۱۹	هدیه های آسمان
۱۵	۱۱	درس ۱۶	فارسی
۲۰	۱۶	درس ۲۰ و ۲۱	مطالعات اجتماعی
۳۵	۲۱	درس ۱۲	علوم تجربی
۵۵	۳۶	فصل ۷ آمار و احتمال	ریاضی

قرآن

۴ ۳ ۲ ۱

۱- در آیه ی «وَأْمُرْهُمْ شُورَىٰ بَيْنَهُمْ» به چه کاری توصیه شده است؟

- (۱) احترام به پدر و مادر
(۲) مشورت کردن در کارها
(۳) خواندن قرآن
(۴) خوبی کردن به دیگران

۴ ۳ ۲ ۱

۲- حضرت فاطمه (س) در مورد خواندن قرآن چه فرموده اند؟

- (۱) خانه ی خود را با خواندن قرآن نورانی کنید.
(۲) بسیار قرآن بخوانید که خداوند کسانی را که قرآن می خواند بسیار دوست دارد.
(۳) من خواندن خواندن کتاب خدا را بسیار دوست می دارم
(۴) هرکسی در کودکی قرآن بخواند به او عقل و دانش داده می شود.

۴ ۳ ۲ ۱

۳- در نماز بعد از تشهد خوانده می شود.

- (۱) رکوع (۲) سجده (۳) قنوت (۴) سلام

۴ ۳ ۲ ۱

۴- به فرموده ی امام علی (ع) نیکو ترین سخن ها در چیست؟

- (۱) قرآن (۲) نماز (۳) مشورت (۴) نگاه به پدر و مادر

۴ ۳ ۲ ۱

۵- تصویر زیر با کدام آیه ی شریفه ارتباط دارد؟



- (۱) در کارهای خوب از یکدیگر پیشی بگیرید.
(۲) پروردگارا به من نیکی عطا کن.
(۳) هر کس ذره ای نیکی کند نتیجه اش را می بیند.
(۴) همان طوری که خدا به تو خوبی کرده است، به دیگران خوبی کن.

هدیه های آسمان

۴ ۳ ۲ ۱

۶- کدام یک از کارهای زیر موجب بی نظمی می شود؟

- (۱) انجام دادن کارها در زمان خود (۲) قرار دادن هر چیز جای خود
(۳) انباشته کردن کارها برای بعد (۴) برنامه ریزی در کارها

۴ ۳ ۲ ۱

۷- به چه دلیلی بعضی انسان ها در جهان آخرت خوش حال هستند.

- (۱) به دلیل قدرت و مقام شان در دنیا (۲) به دلیل داشتن ثروت زیاد
(۳) به دلیل انجام کارهای نیک در دنیا (۴) به دلیل کارهای بد آن ها

۴ ۳ ۲ ۱

۸- معنای آیه زیر در کدام گزینه آمده است؟

«الدُّنْيَا مَرْعَىٰ الْآخِرَةِ»

- (۱) در جهان آخرت بعضی از مردم خوشحال و بعضی دیگر ناراحت هستند. (۲) دنیا مزرعه ی آخرت است.
(۳) کار خوب حتماً نتیجه اش خوبی است. (۴) کار بد حتماً نتیجه اش بد است.

۹- ضرب المثل «گندم از گندم بروید، جو ز جو» با کدام گزینه از نظر مفهومی ارتباط دارد؟

۱) ۲) ۳) ۴)

(۱) و شکر گذار نعمت های خداوند باشید.

(۲) قطعاً بهشت زیر پای نیکو کاران است.

(۳) دنیا مزرعه ی آخرت است.

(۴) نیکي كنيد، قطعاً خدا نیکوکاران را دوست دارد.

۱۰- در کدام شکل بی نظمی دیده نمی شود؟

۱) ۲) ۳) ۴)

(۴)

(۳)

(۲)

(۱)



فارسی (بخوانیم و بنویسیم)

۱۱- متن زیر را با دقت بخوانید و سپس بگویید چند غلط املایی در این متن وجود دارد؟

۱) ۲) ۳) ۴)

اگر از جنگل مواضبت نکنیم. شاید در آینده دیگر نتوانیم داستان هایی بخوانیم که چنین آغاز شوند؛ یکی بود، یکی نبود، غیر از خدا هیچ کس نبود.

غرش و زوزه ی جانوران، سکوت جنگل را می شکند. نمی دانم شاید پلنگی در کمین نشسته باشد، میمون های بازیگوشی که مشغول بازی هستند. را می بینم.

۱ (۴)

۲ (۳)

۳ (۲)

۴ (۱)

۱۲- کدام کلمه به معنای «صدای بلند و ترسناک است» است؟

۱) ۲) ۳) ۴)

(۴) غرش

(۳) رعد

(۲) نعره

(۱) زوزه

۱۳- «نگریست» به چه معناست؟

۱) ۲) ۳) ۴)

(۴) دلواپس شد

(۳) نگاه کرد

(۲) گریه کرد

(۱) خندید

۱۴- املای کدام کلمه درست است؟

۱) ۲) ۳) ۴)

(۴) سلامت

(۲) دستمال کاغزی

(۳) تبلیقات

(۱) قندان

۱۵- کدام جمله با بقیه فرق دارد؟

۱) ۲) ۳) ۴)

(۲) بچه ها سیب ها را خوردند.

(۱) محمد معلم را دید.

(۴) علی رفت.

(۳) سرو صدای زیاد بچه ها مانع استراحتم می شود.

مطالعات اجتماعی

۱۶- اگر فردی در یک شهر غریب گم شود باید به کجا مراجعه کند؟

۱) ۲) ۳) ۴)

(۴) اداره ی پلیس

(۳) اورژانس

(۲) پلیس

(۱) آتش نشانی

۱۷- جهت جغرافیایی طلوع خورشید کدام است؟

- ۱ ۲ ۳ ۴

۱) شمال ۲) شرق ۳) غرب ۴) جنوب

۱۸- چه کسی پلاک ها و تابلو های خانه ها، کوچه ها، محله ها و خیابان ها را نصب می کند؟

- ۱ ۲ ۳ ۴

۱) مأمور پست ۲) مأمور شهر داری ۳) تعمیر کار ۴) مأمور آتش نشانی

۱۹- وقتی روبه جنوب می ایستیم سمت چپ ما به طرف می باشد.

- ۱ ۲ ۳ ۴

۱) شمال ۲) جنوب ۳) شرق ۴) غرب

۲۰- بیمارستان و مدرسه به ترتیب در کدام

- ۱ ۲ ۳ ۴

جهت جغرافیایی نسبت به اداره ی پلیس قرار



دارند؟

۱) شرق-جنوب

۲) غرب-شمال

۳) جنوب-شمال

۴) شرق-غرب

علوم تجربی

۲۱- کدام یک از جانوران دوزیست نیست؟

- ۱ ۲ ۳ ۴

۱) سنبل ۲) وزق ۳) قورباغه ۴) ماهی

۲۲- دوزیستان معمولاً در جاهای زندگی می کنند.

- ۱ ۲ ۳ ۴

۱) خشک ۲) نیمه خشک ۳) مرطوب ۴) آبدار

۲۳- کدام یک از جانداران زیر هیچگاه نمی تواند از آب خارج شود؟

- ۱ ۲ ۳ ۴

۱) قورباغه ۲) لاک پشت ۳) سفره ماهی ۴) سنبل

۲۴- ماهی ها به کمک در آب شنا می کنند.

- ۱ ۲ ۳ ۴

۱) پولک ۲) شش ۳) آبشش ۴) باله

۲۵- ماهی به کمک کدام یک از اعضای بدنش در زیر آب تنفس می کند؟

- ۱ ۲ ۳ ۴

۱) شش ۲) باله ۳) دم ۴) آبشش

۲۶- کدام یک از جانداران زیر در بدن خود ستون مهره دارد؟

- ۱ ۲ ۳ ۴

۱)

۲)

۳)

۴)



۴ ۳ ۲ ۱

۲۷- کدام جمله نادرست است؟

(۱) بدن ماهی از پولک پوشانده شده است.

(۲) لغزنده بودن بدن ماهی به این دلیل است که براحتی در آب حرکت کند

(۳) قورباغه در نوزادی در آب و آبشش تنفس می‌کنند.

(۴) بچه قورباغه ها از طریق پوست تنفس می‌کنند.

۴ ۳ ۲ ۱

۲۸- کدام یک از گیاهان زیر ریشه‌ی راست دارد؟

(۱) ذرت (۲) برنج (۳) آفتابگردان (۴) لوبیا

۴ ۳ ۲ ۱

۲۹- کدام وسیله اهرم نیست؟

(۱) چکش (۲) الاکلنگ (۳) جارو (۴) خودکار

۴ ۳ ۲ ۱

۳۰- در خشک شدن لباس های خیس، چه حالتی اتفاق می افتد؟

(۱) ذوب (۲) انجماد (۳) تبخیر (۴) جامد به گاز

۴ ۳ ۲ ۱

۳۱- با توجه به شکل مقابل، نوع آینه را مشخص کنید.

(۱) تخت (۲) برآمده

(۳) خمیده (۴) فرورفته



۴ ۳ ۲ ۱

۳۲- برای دیدن هر جسمی به نیاز داریم.

(۱) آینه (۲) نور (۳) حرکت (۴) صدا

۴ ۳ ۲ ۱

۳۳- آب در کدام خاک بیشتر فرو می رود؟

(۱) خاک رس (۲) خاک باغچه (۳) ماسه نرم (۴) خاک ساختمانی

۴ ۳ ۲ ۱

۳۴- بچه قورباغه و قورباغه بالغ به ترتیب با چه چیزی تنفس می کنند؟

(۱) آبشش - شش (۲) شش - شش

(۳) شش - آبشش (۴) آبشش - آبشش

۴ ۳ ۲ ۱

۳۵- مقدار فضایی که یک ماده اشغال می کند چه نام دارد؟

(۱) جرم (۲) وزن (۳) حجم (۴) سطح

ریاضی

۴ ۳ ۲ ۱

۳۶- اگر یک تاس را به هوا پرتاب کنیم. احتمال این که عدد ۳ بیاید چند است؟

(۱) $\frac{1}{2}$ (۲) $\frac{1}{3}$ (۳) $\frac{1}{6}$ (۴) $\frac{1}{5}$

۴ ۳ ۲ ۱

۳۷- عددهای یک رقمی که اگر در خودشان ضرب شوند، حاصل ضرب آن‌ها بیشتر از ۳۰ می‌شوند

چند تا هستند؟

۴۴- اگر یک سکه را یک بار پرتاب کنیم کدام حالت اتفاق می افتد؟


(۱) حتماً رو می آید (۲) حتماً پشت می آید (۳) رو یا پشت می آید (۴) نه رو و نه پشت می آید

(۴) (۳) (۲) (۱)

۴۵- شکل روبه رو را چه می نامیم؟

(۱) مثلث (۲) استوانه (۳) دایره (۴) مخروط

(۴) (۳) (۲) (۱)

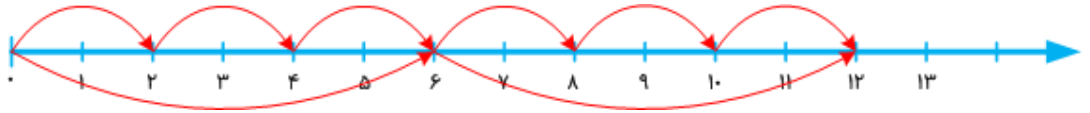


۴۶- اگر از عدد ۱۰۰۰ ده واحد برداریم چه مقدار باقی می ماند؟

(۱) ۱۰۰ (۲) ۹۹۰ (۳) ۱۰۱۰ (۴) ۸۰۰

(۴) (۳) (۲) (۱)

۴۷- تساوی ضرب مربوط به محور کدام گزینه است؟



(۱) $5 \times 2 = 3 \times 6$

(۳) $6 \times 2 = 2 \times 6$

(۲) $6 \times 3 = 2 \times 6$

(۴) $4 \times 3 = 6 \times 2$

(۴) (۳) (۲) (۱)

۴۸- در الگوی شمارشی ۸ تا ۸ تا (در صورتی که عدد اول ۸ باشد) ۴۸ عدد چندم است؟

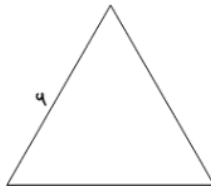
(۱) چهارم (۲) پنجم (۳) هشتم (۴) ششم

(۴) (۳) (۲) (۱)

۴۹- محیط مثلث متساوی الاضلاع روبه رو چند است؟

(۱) ۲۵ (۲) ۱۲ (۳) ۳۶ (۴) ۱۸

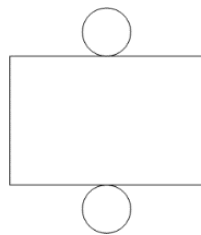
(۴) (۳) (۲) (۱)



۵۰- با استفاده از شکل گسترده‌ی زیر، کدام شکل هندسی را می توان ساخت؟

(۱) مخروط (۲) مکعب (۳) استوانه (۴) چهار وجهی منتظم

(۴) (۳) (۲) (۱)



۵۱- حاصل ضرب چه عددی در ۱۰ برابر با ۱۹۰ می شود؟

(۱) ۱۹ (۲) ۱۸ (۳) ۱۱ (۴) ۹

(۴) (۳) (۲) (۱)

۵۲- بزرگ ترین و کوچک ترین عدد چهار رقمی بدون تکرار ارقام به ترتیب (از راست به چپ) در کدام گزینه ذکر شده است؟

(۱) ۱۰۲۳-۹۸۷۶ (۲) ۱۰۳۲-۹۷۸۶ (۳) ۱۲۳۰-۸۶۷۹ (۴) ۱۲۰۳-۹۸۶۷

(۴) (۳) (۲) (۱)

۵۳- در کیسه ای ۷ مهره ی سیاه و ۳ مهره ی سفید وجود دارد، اگر یک مهره به صورت تصادفی در آوریم کدام احتمال درست است؟

(۴) (۳) (۲) (۱)

۱) به احتمال بیشتر مهره سفید است.

۲) به احتمال بیشتر مهره سیاه است.

۳) احتمال سیاه و یا سفید بودن برابر است.

۴) به طور حتمی مهر سفید نیست.

۵۴- حاصل ضرب رقم های کوچک ترین عدد سه رقمی در یکدیگر کدام گزینه می شود؟

۱) ۱ ۲) ۲ ۳) ۳ ۴) ۴

۱) ۱ ۲) ۶ ۳) ۳ ۴) ۴

صفر

۵۵- مهتابی معمولاً به شکل است.

۱) ۱ ۲) ۲ ۳) ۳ ۴) ۴

۱) مکعب

۲) استوانه

۳) مخروط

۴) مکعب مستطیل

باسخنامه مسابقه علمی پایه سوم دبستان

نام و نام خانوادگی: _____ نام پدر: _____ دبستان: _____ کلاس: _____ نام آموزگار: _____

۴	۳	۲	۱	
				۴۱
				۴۲
				۴۳
				۴۴
				۴۵
				۴۶
				۴۷
				۴۸
				۴۹
				۵۰
				۵۱
				۵۲
				۵۳
				۵۴
				۵۵
				۵۶
				۵۷
				۵۸
				۵۹
				۶۰
				۶۱
				۶۲
				۶۳
				۶۴
				۶۵
				۶۶
				۶۷
				۶۸
				۶۹
				۷۰
				۷۱
				۷۲
				۷۳
				۷۴
				۷۵
				۷۶
				۷۷
				۷۸
				۷۹
				۸۰

۴	۳	۲	۱	
				۱
				۲
				۳
				۴
				۵
				۶
				۷
				۸
				۹
				۱۰
				۱۱
				۱۲
				۱۳
				۱۴
				۱۵
				۱۶
				۱۷
				۱۸
				۱۹
				۲۰
				۲۱
				۲۲
				۲۳
				۲۴
				۲۵
				۲۶
				۲۷
				۲۸
				۲۹
				۳۰
				۳۱
				۳۲
				۳۳
				۳۴
				۳۵
				۳۶
				۳۷
				۳۸
				۳۹
				۴۰

کلید مسابقه علمی پایه سوم دبستان

نام و نام خانوادگی: _____ نام پدر: _____ دبستان: _____ کلاس: _____ نام آموزگار: _____

۴	۳	۲	۱	
				۴۱
				۴۲
				۴۳
				۴۴
				۴۵
				۴۶
				۴۷
				۴۸
				۴۹
				۵۰
				۵۱
				۵۲
				۵۳
				۵۴
				۵۵
				۵۶
				۵۷
				۵۸
				۵۹
				۶۰
				۶۱
				۶۲
				۶۳
				۶۴
				۶۵
				۶۶
				۶۷
				۶۸
				۶۹
				۷۰
				۷۱
				۷۲
				۷۳
				۷۴
				۷۵
				۷۶
				۷۷
				۷۸
				۷۹
				۸۰

۴	۳	۲	۱	
				۱
				۲
				۳
				۴
				۵
				۶
				۷
				۸
				۹
				۱۰
				۱۱
				۱۲
				۱۳
				۱۴
				۱۵
				۱۶
				۱۷
				۱۸
				۱۹
				۲۰
				۲۱
				۲۲
				۲۳
				۲۴
				۲۵
				۲۶
				۲۷
				۲۸
				۲۹
				۳۰
				۳۱
				۳۲
				۳۳
				۳۴
				۳۵
				۳۶
				۳۷
				۳۸
				۳۹
				۴۰